

Písemný přijímací test na obor Archeologie pravěku a středověku – Varianta A

a) esej (vyberte jedno z uvedených témat)

Význam archeologie pro současnost

Život v mladší době kamenné – neolitu

Možnosti archeologie při poznávání života středověké společnosti

b) Specializovaný test – Varianta A

1. Věstonická venuše je vyrobena převážně z: přibližně:

- a) 45-50 tisíc let př. n. l.
- b) 25-29 tisíc let př. n. l.**
- c) 12-16 tisíc let př. n. l.
- d) 5-9 tisíc let př. n. l.

2. Výzkum lokality Dolní Věstonice je spojen se jménem:

- a) Jan Filip
- b) František Vildomec
- c) Karel Absolon**
- d) Rudolf Turek

3. Broušení kamene se ve větším měřítku uplatnilo:

- a) ve středním paleolitu
- b) v neolitu**
- c) v mezolitu
- d) v eneolitu

4. Mezi kultury pozdní doby kamenné nepatří:

- a) kultura řivnáčská
- b) kultura s vypíchanou keramikou**
- c) kultura s nálevkovitými poháry
- d) kultura se šňůrovou keramikou

5. Velká Morava zanikla v důsledku nájezdů:

- a) Tatarů
- b) Hunů
- c) Peršanů
- d) Maďarů**

6. Poslední fázi výroby štípaných kamenných nástrojů v archeologii nazýváme jako:

- a) hlazení
- b) retuš**
- c) plátování
- d) vroubkování

7. Povlak z jemné hlíny nanášený na keramiku nazýváme:

- a) engoba**
- b) smalt
- c) niello
- d) majolika

8. Mezi významné archeologicky zkoumané vsi zaniklé v pozdním středověku nepatří:

- a) Konůvky a Pfaffenschlag na Moravě
- b) Bystřec a Mstěnice na Moravě
- c) Svídna a Potálov v Čechách
- d) Vikletice a Nynice v Čechách**

9. Amfora je:


- a) vysoká vázovitá nádoba bez uch
- b) nádoba na víno s jedním velkým uchem a úzkým hrdlem
- c) velká nádoba se dvěma protilehlými svislými uchy**
- d) široká nádoba se dvěma vodorovnými uchy na okraji

10. Která z následujících kulturních rostlin není obilí?

- a) čočka**
- b) žito
- c) proso
- d) špalda

11. Na obrázku níže je kresebná rekonstrukce:

- a) tábořiště lovců mamutů v Dolních Věstonicích
- b) neolitická sociokultovní stavba, tzv. rondel**
- c) ohrada pro dobytek z doby bronzové
- d) svatyně na akropoli keltského oppida Závist u Zbraslavi



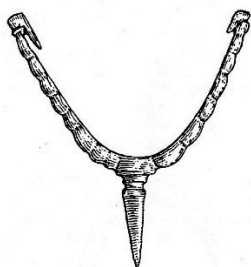
12. Jaké historicky významné město je označeno bodem „A“?

- a) Řezno (Regensburg)
- b) Cáchy (Aachen)
- c) Mohuč (Mainz)
- d) Salcburk (Salzburg)




13. Na obrázku je:

- a) ostruha
- b) třmen
- c) udidlo
- d) nebozez



14. Propojte zřetelně čarou název kultury s příslušným obrázkem nádoby:



kultura řivnáčská

kultura s lineární keramikou



kultura s vypíchanou keramikou



kultura se zvoncovitými poháry



kultura se šňůrovou keramikou

15. Hledíte na předoucí pramáti Evu zobrazenou v tzv. Velislavově bibli z období kolem poloviny 14. století. Jak se nazývají předměty označené jako „A“ a „B“?

- a) skací stojánek a tyčovitá přeslice
- b) přeslen a tyčovitá přeslice**
- c) člunek a tyčovité motovidlo
- d) člunek a tyčovitý klubíčkováč

